

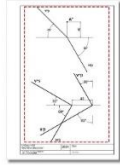
TRABAJO PRACTICO N° 1

ENTREGA EL MARTES 09 DE JUNIO. (cierre 23:00 hs.)

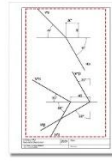
PUNTAJE MÁXIMO 100 % (Se aprueba con 7 o más)

Realizar los ejercicios en hojas blancas formato A4 con márgenes y rótulo provisto por la cátedra. Dos ejercicios por hoja.

El envío deberá realizarse en dos (2) archivos JPG, procurando que sea muy nítido y fácil de visualizar tanto los trazos como la nomenclatura. Pueden recortar de la hoja original solos los ejercicios. FUNDAMENTAL: "Denomine los archivos con su apellido y número según ejemplo"



GODINEZ1.jpg

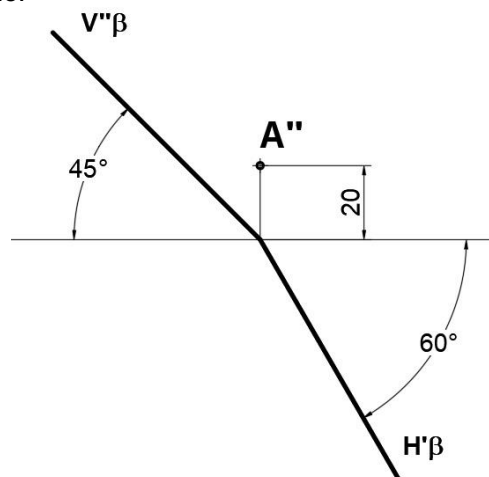


GODINEZ 2.jpg

A) PERTENECIA (25 PUNTOS)

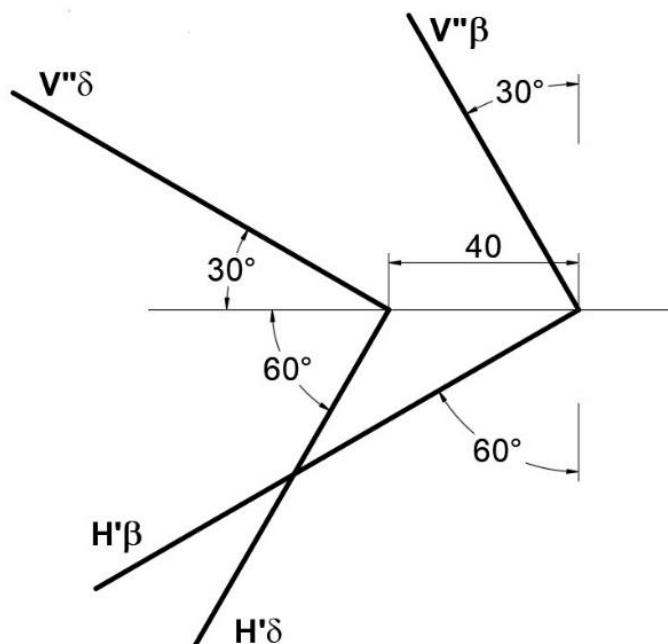
Sobre el plano dado:

- Encontrar la proyección horizontal (A') del punto A con la condición de que este pertenezca al plano.
- Trazar por el punto A del plano una recta horizontal, vertical y oblicua cualquiera que pertenezcan al plano.



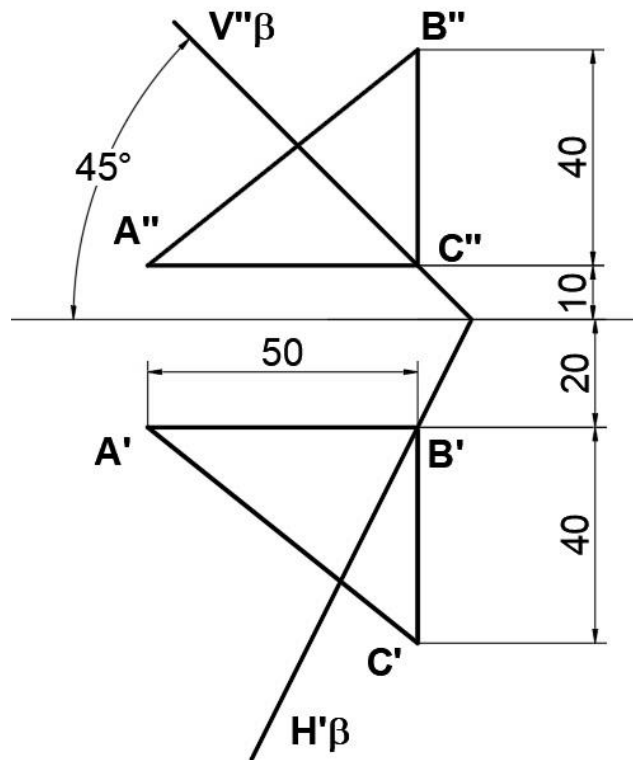
B) INTERSECCIÓN DE PLANO (25 PUNTOS)

Encontrar la recta intersección de los planos dados.



C) INTERSECCIÓN DE PLANOS (25 PUNTOS)

- Determinar previamente las trazas del plano que la figura define.
- Resolver la intersección de los planos dados.



D) INTERSECCION DE RECTA Y PLANO (25 PUNTOS)

Encontrar el punto intersección entre la recta y plano dado a través de una figura.

